


۱. مهربانم، کسرهای زیر را روی محورها نشان بده.

الف) $\frac{1}{5}$ قبل از ۹

ب) $\frac{3}{4}$ واحد بعد از ۵




ج) $\frac{3}{6}$ واحد مانده به ۷

د) $\frac{2}{4}$ واحد قبل از ۳



ر) $\frac{3}{6}$ واحد بعد از ۴

و) $\frac{2}{3}$ واحد مانده به ۸



۲. عزیزم، با رقم‌های (۳، ۰، ۴، ۵) کوچکترین عدد چهار رقمی را بنویس و در جدول ارزش مکانی قرار بده.

یکان	دهگان	صدگان	هزارگان

الف) رقم ۴ در چه مرتبه‌ای قرار دارد؟

ب) ارزش مکانی کدام رقم از همه کمتر است؟

ج) عدد را به حروف بنویسید.

و) برای عدد شکل بکش.

مای درس

گروه آموزشی عصر

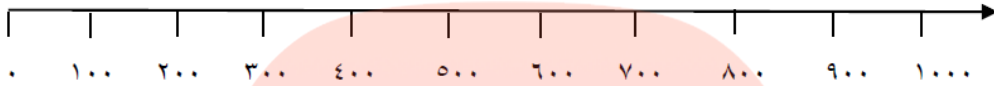
www.my-dars.ir

۳. دلبندم، با رسم الگوی شاخه‌ای تمام عددهای سه رقمی (بدون تکرار ارقام) را بنویس که دهگان آنها ۶ یا ۹، صدگان آنها ۳ و یکان آنها ۲ یا ۴ یا ۷ باشد.

۴. فرزندم، جدول زیر را کامل کن. ساعت‌های خواسته شده را به عدد بنویس.

زمان	چهارده و ربع	۲۲ : ۱۷
بعد از ظهر	۷ : ۱۱	نه و نیم

۵. گلم، عددهای (۷۹۰ - ۵۵ - ۱۹۸ - ۹۵۰) را به صورت تقریبی روی محور نشان بده.



۶. نازنینم، جمع های زیر را انجام بده.

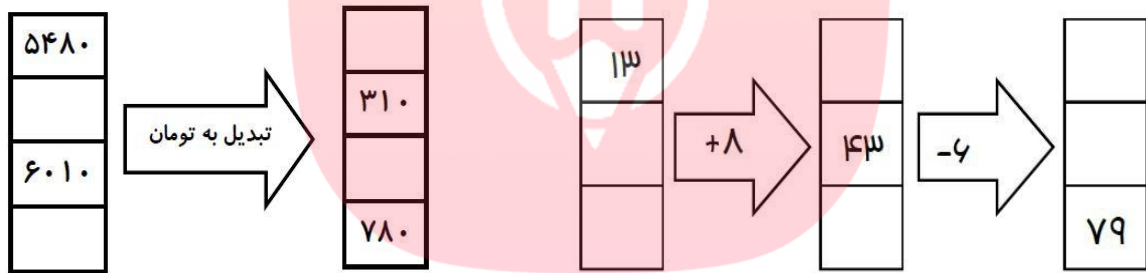
$$۵۵۰ + ۳۰ + ۲۰۰ + ۴ = \dots\dots\dots$$

$$۶۰۰ + ۳۰۰۰ + ۹۰ + ۹۱۰ + ۳ = \dots\dots\dots$$

$$۱۵۰۰ + ۲۰ + ۵۰۰ + ۱ = \dots\dots\dots$$

$$۹۹۹ + ۴۰۰ + ۱ + ۷۰ + ۲ = \dots\dots\dots$$

۷. گلم، جاهای خالی را کامل کن.



۸. مهربانم، کسری که هر شکل نشان می دهد را بنویس.



۹. امروز شنبه و چهارمین روز ماه است. تا آخر این ماه، شنبه‌ها چه روزهایی از ماه هستند؟

۱۰. عزیزدلم، گسترده عدد ۳۹۱۸ را بنویس.

خدا قوت عزیزم ☺

